

等 別：三等考試
類 科：財稅行政、會計
科 目：財政學
考試時間：2 小時

座號：_____

※注意：禁止使用電子計算器。

甲、申論題部分：(50分)

- (一)不必抄題，作答時請將試題題號及答案依照順序寫在申論試卷上，於本試題上作答者，不予計分。
- (二)請以藍、黑色鋼筆或原子筆在申論試卷上作答。
- (三)本科目除專門名詞或數理公式外，應使用本國文字作答。

一、施打疫苗可提升自我免疫力、預防感染以致於減少罹病的風險。但同時，施打疫苗將不會再有將病毒傳染給他人的可能，間接減少了他人的罹病率。因此，個人施打疫苗的決定帶來了外部利益。然而，隨著愈來愈多的人施打疫苗，每次疫苗施打的邊際外部利益可能逐步下降；當施打疫苗的群眾達到足夠人數時，病毒便難以在人與人之間傳播，施打疫苗的邊際外部利益最終降為零。假設疫苗市場為完全競爭市場，請繪圖分析政府是否應給予消費者施打疫苗的補貼？對疫苗的市場價格、社會福利淨利益又有何影響？(25分)

二、各國稅局課徵個人所得稅時，通常會提供納稅者得以享受租稅優惠 (tax preferences) 的項目，請說明何謂租稅優惠？租稅優惠的立論基礎及其可能的經濟效果又為何？(25分)

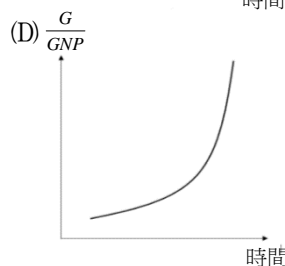
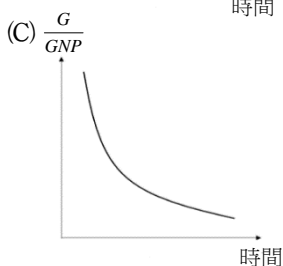
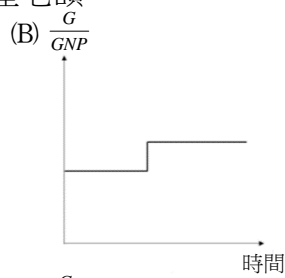
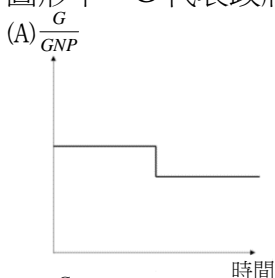
乙、測驗題部分：(50分)

代號：5313

- (一)本試題為單一選擇題，請選出一個正確或最適當答案。
- (二)共25題，每題2分，須用2B鉛筆在試卡上依題號清楚劃記，於本試題或申論試卷上作答者，不予計分。

- 1 當公共支出之成本係以貨幣衡量，而利益涉及以質性指標為決策依據時，下列方法何者適用？
(A)成本效益分析 (B)成本效用分析 (C)成本效果分析 (D)敏感性分析
- 2 下列何者不是成本效益分析決定無形財貨或勞務影子價格的常用方法？
(A)特徵價格法 (hedonic price method)
(B)條件評估法 (contingent valuation method)
(C)旅遊成本法 (travel-cost method)
(D)淨變現價值法 (net realizable value method)
- 3 若某一投資計畫估計一年後之名目報酬為 1,100 元，市場利率為 8%，通貨膨脹率為 2%，則該計畫報酬之現值為：
(A) 1,100 元 (B) 1,019 元 (C) 1,000 元 (D) 943 元

- 4 下列那一個圖形最能代表皮寇克 (A. Peacock) 及魏斯曼 (J. Wiseman) 的公共支出成長法則？圖形中，G 代表政府支出，GNP 代表國民生產毛額。



- 5 下列有關網路外部性 (network externalities) 的敘述，何者錯誤？
- (A) 網路遊戲玩家的效用因更多玩家參與遊戲而提升，此為正的網路外部性
 (B) 線上影音檔案下載速度會因網路使用人數擴增而減緩，此為負的網路外部性
 (C) 政府不需因某一產品或服務具備正的網路外部性，而提出租稅或補貼等鼓勵措施
 (D) 具備正的網路外部性的產品，經常因閉鎖效果 (lock-in effect)，而使得產品容易被取代
- 6 下列何者不是具有自然獨占特性的公用事業？
- (A) 臺灣高鐵公司 (B) 台灣糖業公司 (C) 台灣電力公司 (D) 臺灣自來水公司
- 7 福利經濟學第一定理主要在強調經濟資源配置效率與下列何者之關係？
- (A) 租稅公平 (B) 社會福利 (C) 完全競爭市場 (D) 政府存在
- 8 下列有關古典財政理論的敘述，何者正確？
- (A) 主張政府應積極介入市場經濟 (B) 反對國家發行公債
 (C) 贊成以貨幣政策調節產出 (D) 主張國家生產體說
- 9 下列何者並非中位數投票者定理所推論？
- (A) 候選人會以中位數投票者的政策立場訂定其選舉政見以尋求多數選民的支持
 (B) 以代議制取代直接選舉不影響定理的預測結果
 (C) 追求中位數投票者支持的結果導致穩定的兩黨政治體系
 (D) 候選人的個人魅力與領導能力是贏得中位數投票者支持的關鍵
- 10 假設一選區有甲、乙、丙 3 位候選人，投票者針對候選人偏好排序，將票投給偏好最高的候選人，選舉採兩輪選舉制，首輪投票中擇得票最多的兩人，進入二輪決選，以得票過半數者當選。假定選民的偏好如下，請問那位候選人會贏得選舉？
- 42% 選民偏好：甲 > 乙 > 丙；35% 選民偏好：乙 > 丙 > 甲；18% 選民偏好：丙 > 乙 > 甲；5% 選民偏好：丙 > 甲 > 乙
- (A) 甲候選人 (B) 乙候選人 (C) 丙候選人 (D) 出現循環多數法
- 11 全民健康保險所提供的預防保健服務，下列敘述何者正確？
- (A) 可改善逆選擇問題 (B) 為避免浪費醫療資源，收取高額部分負擔
 (C) 為現金補助措施之一 (D) 免除部分負擔
- 12 社會救助法的中央主管機關為：
- (A) 內政部 (B) 衛生福利部 (C) 勞動部 (D) 財政部

- 13 在相同稅收下，有關租稅課徵的超額負擔（EB）之敘述，下列何者正確？①稅率累進度愈高，EB 愈大 ②替代效果愈大，EB 愈大 ③所得效果愈大，EB 愈小 ④稅基愈廣，EB 愈大
(A)①② (B)①②④ (C)②③ (D)①③④
- 14 由於我國人口結構發生變化，導致勞保財務問題日益嚴重，下列何者非主要原因？
(A)依賴人口比率日增 (B)男女性別比例失衡
(C) 65 歲以上人口比例日漸增加 (D)生育率逐年下滑
- 15 我國現行的特種貨物及勞務稅是一種：
(A)單階段加值型消費稅 (B)選擇性多階段消費稅
(C)稅收指定用途的租稅 (D)累進課徵之財產稅
- 16 在部分均衡分析架構下，對完全競爭市場商品從量課稅所產生之超額負擔，下列敘述何者錯誤？
(A)與商品需求彈性呈正相關 (B)與商品價格呈正相關
(C)與課徵稅額的平方呈正相關 (D)與商品交易數量呈正相關
- 17 下列那些是亞當斯密的租稅課徵原則？①公平原則 ②普遍原則 ③中性原則 ④確實原則 ⑤便利原則
(A)①②③④ (B)①②③⑤ (C)①④⑤ (D)②④⑤
- 18 下列有關租稅課徵效果之敘述，何者正確？①課稅與補貼都會產生超額負擔 ②課稅會產生超額負擔，補貼不會 ③平均稅率愈大，替代效果愈弱 ④邊際稅率愈大，替代效果愈強
(A)①③ (B)①④ (C)②③ (D)②④
- 19 在所得固定且全部用於消費的條件下，對所有財貨（不含休閒）課徵比例消費稅（CT），或是對所得課徵比例所得稅（IT），下列敘述何者正確？
(A) CT 與 IT 都具效率 (B) CT 具效率、IT 不具效率
(C) CT 與 IT 都不具效率 (D) CT 不具效率、IT 具效率
- 20 丁波（C. M. Tiebout）認為下列何種方法可以讓地方公共財的提供達到效率？
(A)課徵人頭稅 (B)徵收克拉奇租稅
(C)居民以腳投票 (D)依所得高低強制比例繳稅
- 21 下列何者不是財產稅新觀點的特徵？
(A)在單一稅率下，財產稅負全由買方負擔
(B)在單一稅率下，對土地課徵財產稅具累進性
(C)在差別稅率下，財產稅具貨物稅效果
(D)在長期財產供給可變下，財產稅可能是累退的
- 22 下列何項稅目沒有統籌分配的規定？
(A)貨物稅 (B)土地增值稅 (C)房屋稅 (D)使用牌照稅
- 23 若某一國家遭遇巨大天災，依據貝羅（R. Barro）的論點，為了減少扭曲，應以下列何者為重建財源？
(A)提高稅賦 (B)發行公債 (C)減少政府其他支出 (D)貨幣融通
- 24 假設受補助地區收到 1 元補助款時所增加的公共支出為 X，而其所得增加 1 元時所增加的公共支出為 Y。捕蠅紙效果（flypaper effect）係指下列何種現象？
(A) $X > Y$ (B) $X = Y$ (C) $X < Y$ (D) $X = (1/Y)$
- 25 比較凱因斯及布坎南對於公債是否存在代際間負擔移轉之推論，下列何者正確？
(A)前者須視公債收入之用途而定，後者認為不存在代際間移轉
(B)前者不存在代際間移轉，後者認為須視公債收入之用途而定
(C)二者均認為須視公債收入之用途而定
(D)二者均認為不存在代際間移轉