

考試別：身心障礙人員考試

等別：三等考試

類科：財稅行政

科目：財政學

考試時間：2小時

座號：_____

※注意：禁止使用電子計算器。

甲、申論題部分：（50分）

(一)不必抄題，作答時請將試題題號及答案依照順序寫在申論試卷上，於本試題上作答者，不予計分。

(二)請以藍、黑色鋼筆或原子筆在申論試卷上作答。

(三)本科目除專門名詞或數理公式外，應使用本國文字作答。

一、請從課稅對價格影響的角度，說明為何大多數的租稅很可能造成效率的損失（losses in efficiency）？（25分）

二、請分析為何配合補助（matching grant）較可能比相同金額（equal value）下的非配合補助（non-matching grant）有效的增加地方政府支出？（25分）

乙、測驗題部分：（50分）

代號：3305

(一)本試題為單一選擇題，請選出一個正確或最適當答案。

(二)共25題，每題2分，須用2B鉛筆在試卡上依題號清楚劃記，於本試題或申論試卷上作答者，不予計分。

1 下列何者不會影響淨現值法之計算結果？

(A)成本金額 (B)折現率 (C)利益發生時點 (D)通貨膨脹率

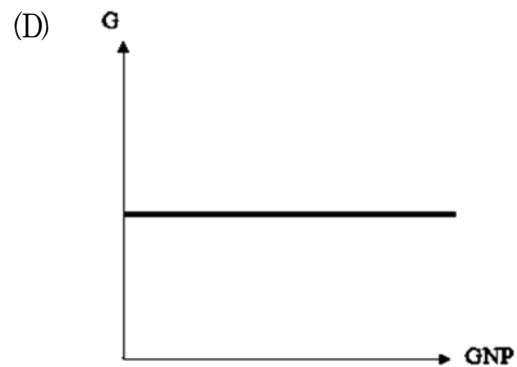
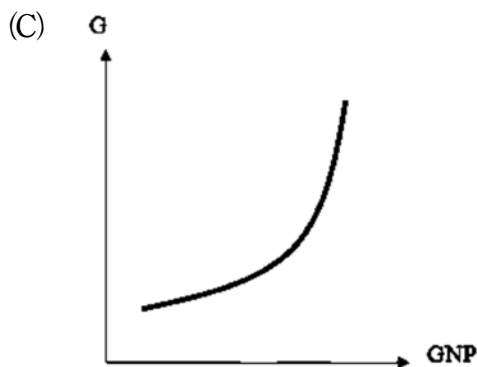
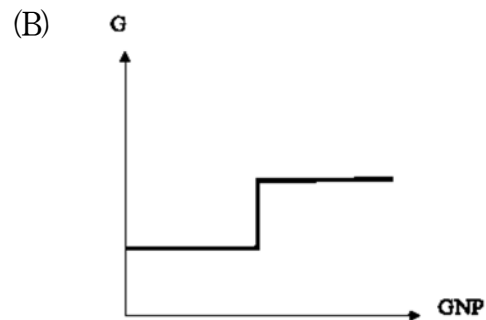
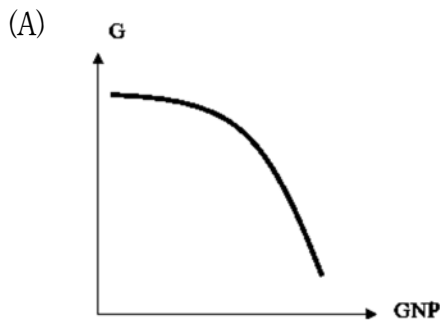
2 若公共支出計畫對於受益者和受害者的貨幣評價相等，經過成本效益分析後淨現值為正數，該計畫值得被推薦採行，此種評估方式是基於下列何項原則？

(A)補償原則 (B)公平原則
(C)成本有效性原則 (D)效率原則

3 公共支出計畫的可行性評估，計算收益現值等於成本現值的期間，此種評估方法稱為：

(A)淨現值法 (B)內部報酬率 (C)益本比法 (D)還本期法

4 假設橫軸為國民生產毛額（GNP），縱軸為公共支出（G）。下列何者最能說明華格納法則（Wagner's law）？



5 關於課徵皮古稅（Pigouvian tax）的敘述，下列何者正確？

- (A) 課徵之外部性的影響範圍須不大
- (B) 課徵目的在達成所得公平分配
- (C) 課徵之後的外部性必等於零
- (D) 課徵的稅額等於最適產出水準下的邊際外部成本

6 政府要求汽車行駛時駕駛人與乘客須繫安全帶的管制論點，是基於下列何者？

- (A) 公共財理論
- (B) 俱樂部財理論
- (C) 殊價財理論
- (D) 資訊不對稱理論

7 我國全民健康保險制度的主要特色，下列何者錯誤？

- (A) 一般保費按固定費率徵收
- (B) 可解決逆選擇問題
- (C) 強制納保
- (D) 可解決道德危機問題

8 關於福利經濟學第一定理的敘述，下列何者正確？

- (A) 為了達成資源的效率配置，政府需要干預市場運作
- (B) 為了達成資源的效率配置，政府不需要干預市場運作
- (C) 為了達成資源的公平分配，政府需要干預秉賦資源的分配
- (D) 為了達成資源的公平分配，政府不需要干預秉賦資源的分配

9 關於我國勞工保險制度的敘述，下列何者正確？

- (A) 屬於自負盈虧的社會保險
- (B) 屬於短期保險
- (C) 採行完全提存準備制
- (D) 累積有相當數額的基金

- 10 財政學有關政府「資源配置」功能的討論，主要是重視：
- (A)經濟成長 (B)經濟穩定 (C)經濟效率 (D)經濟公平
- 11 關於公共選擇理論的敘述，下列何者錯誤？
- (A)中位數投票者理論指出公共選擇不一定達到效率的要求
(B)選票互助可能降低社會福利
(C)鄧恩斯模型解釋一個政黨很難長期取得執政地位的現象
(D)競租理論指出競租活動不會造成效率的損失
- 12 林達爾模型（Lindahl model）均衡下，每位投票者的租稅負擔符合下列何種租稅課徵原則？
- (A)租稅中立性原則 (B)華格納的平等原則
(C)亞當斯密的平等原則 (D)樹果原則
- 13 關於負所得稅的敘述，下列何者錯誤？
- (A)此制度會降低受補助者的工作意願
(B)政府訂定一門檻值，若納稅人所得標準低於此門檻值，則由政府補助
(C)負所得稅將提高受補助者的福利水準
(D)政府以實物補助的方式補助低所得者
- 14 現行對於國內產製產品所課徵的貨物稅是屬於：
- (A)單階段銷售稅，於出廠時徵收 (B)多階段銷售稅，於出廠時徵收
(C)單階段銷售稅，於零售時徵收 (D)多階段銷售稅，於零售時徵收
- 15 關於租稅中立性的敘述，下列何者錯誤？
- (A)指避免改變財貨的相對價格
(B)屬租稅公平原則
(C)會產生無謂損失的稅制即違反租稅中立性
(D)定額稅符合租稅中立性的要求
- 16 下列何者不是財產稅受益觀點的特徵？
- (A)課徵不會產生超額負擔 (B)財產稅具累進性
(C)稅負與地方公共服務有關 (D)租稅歸宿不納入考慮
- 17 由於實務上無法對休閒課稅，對所有財貨課稅時，會扭曲個人的最適休閒決策，因此對休閒的互補品課以重稅，是根據：
- (A)拉弗稅率 (B)皮古稅率
(C)水平公平原則 (D)柯列特－漢格法則

- 18 依中央統籌分配稅款分配辦法規定，特別統籌分配稅款的財源，包含下列那些？①所得稅 ②貨物稅 ③土地增值稅 ④其他收入
(A)僅①② (B)僅①②③ (C)僅①②④ (D)①②③④
- 19 使用家計單位的無差異曲線與資產組合模型，若政府對於風險性資產的投資報酬課稅且損失不得扣除，則會造成？
(A)總預期報酬增加 (B)總風險增加
(C)風險性資產的持有數額增加 (D)風險性資產的持有數額減少
- 20 在其他條件相同下，累進所得稅相對於比例消費稅，具有下列那些優點？
①自動穩定功能佳 ②具有跨期中立性 ③稅收較具所得彈性 ④鼓勵儲蓄
(A)①② (B)①③ (C)②④ (D)③④
- 21 在考慮休閒選擇可變動的條件下，課徵定額稅與下列何者具有等價性？
(A)對所得課徵比例所得稅
(B)對休閒課徵從價稅
(C)對所有財貨（不含休閒）課徵單一稅率的貨物稅
(D)對休閒與所有財貨課徵單一稅率的貨物稅
- 22 下列何者不是丁波（C. M. Tiebout）純地方公共財理論的相關假設？
(A)公共服務具有外溢效果
(B)居民可以完全自由移動
(C)每單位公共服務成本固定
(D)居民對各地區公共服務與租稅擁有完整的資訊
- 23 下列何者為政府間補助款所能達到的功能？①平衡區域發展 ②促進區域間的財政均等 ③改善資源配置效率 ④滿足上級政府的財源需求
(A)僅①②④ (B)僅②③④ (C)僅①②③ (D)①②③④
- 24 假設政府實施負所得稅制，對於所得低於基本生活水準者給予補貼，在休閒為正常財之下，對於其工作意願之影響，下列敘述何者正確？
(A)稅前所得低於基本生活水準者工作會減少
(B)稅前所得低於基本生活水準者工作會增加
(C)稅前所得高於基本生活水準者工作會減少
(D)稅前所得高於基本生活水準者工作會增加
- 25 某地方擁有全國唯一的煤礦，若該地方政府對煤課徵採煤稅時，下列敘述何者正確？
(A)會產生租稅競爭 (B)會發生租稅輸出
(C)只有該地區居民需要負擔採煤稅 (D)該採煤稅將完全由煤的生產者負擔